


PASQUA SENZA...PROBLEMI



Vuoi sapere cosa è successo nelle vacanze di Pasqua agli alunni della scuola di Rocca Fiorita? Leggi e abbina (collegandolo) ogni episodio raccontato con il rispettivo disegno con la TECNICA DELLE BARRE, poi risolvi sul tuo quaderno in forma breve.





Marina aveva preparato un cestino con 41 uova decorate ma 13 sono sparite. Quante sono rimaste nel cestino?




Il papà di Luca ha piantato in giardino 8 tulipani in ognuna delle 4 aiuole. Quanti tulipani ha piantato?



Arianna vive in campagna e nella sua cascina sono nati 15 pulcini. Ora sono stati messi in parti uguali in 3 incubatrici: quanti in ogni incubatrice?



Una mattina sul balcone della casa in montagna di Paola si sono radunate 9 lepri e 13 conigli. Quanti animali in tutto?



Nella tenuta della maestra Paola sono nati 15 agnellini! La maestra li ha sistemati 3 in ogni recinto. Quanti gruppi?

